

**SANT NIRANKARI PUBLIC SCHOOL**

**AVTAR ENCLAVE**

**CLASS-III**



# HOLIDAY HOMEWORK







# HAPPY SUMMER HOLIDAYS

*Wishing you a summer vacation that's a treasure trove of inspiration, where you can uncover new ideas, concepts and perspectives that ignite your creativity*







- ✓ **Stay Fit, Stay Healthy - Play your favourite game / sport regularly.**
- ✓ **Eat healthy food and drink lots of water & juices.**
- ✓ **Read every day. Watch less of T.V. Do your homework neatly and on your own. Learn and revise all the work done in the class.**








# TOPIC



# FOOD





# ENGLISH

1. Do the sample paper in a separate notebook.
2. Make a table of traditional food of 5 states of India and paste the pictures of those food items.

Name of state	Traditional food	Picture
1		
2		
3		
4		
5		

3. Write 5 ways to avoid wastage of food.





ल

च

ठ

म

ख

ज

# HINDI

1. दीए गए सैंपल पेपर को एक अलग कॉपी में करे।
2. किन्हीं पाँच राज्यों के पारंपारिक व्यंजनों के चित्र लगाकर उनके नाम लिखिए।
3. विभिन्न दालों को एक ए-4 शीट पर चिपका कर उनके नाम लिखिए।

ग

ख

क





# MATHS

1. Do the sample paper in a separate notebook.
2. Purchase some food items from market like one packet of biscuits, one packet of namkeen, one chocolate etc. Note down their cost along with the name of the food item and add the total cost.
3. The food item you like to eat (At least 5) collect their wrapper and paste it.








# EVS



- 
1. Do the sample paper in a separate notebook .
  2. Make food pyramid including all the nutrients.
  3. Make a food chain by drawing or pasting the pictures on A-4 size sheet.





# COMPUTER



1. Make a chart by showing :-
  - a. Input- Output devices.
  - Or
  - b. Chart showing storage devices.



# ART & CRAFT



1. Make pen stand and one designer paper bag.
2. Prepare 4 Eco bricks with half litre bottle.



**SANT NIRANKARI PUBLIC SCHOOL  
AVTAR ENCLAVE, PASCHIM VIHAR**

**Session (2024-25)**

**SUBJECT: ENGLISH**

**CLASS: III**

**TIME: 2 hrs.**

**M.M: 50**

**This paper has been divided into four sections.**

**Section A: Reading -10 MARKS**

**Section B: Writing - 5 MARKS**

**Section C: Grammar -20 MARKS**

**Section D: Literature -15 MARKS**

**GENERAL INSTRUCTIONS:**

- i) All questions are compulsory.**
- ii) There should not be any overwriting or cutting.**

**SECTION-A (READING)**

**1. Read the following passage carefully. (1x5 = 5marks)**

Bears are found in Europe, Asia, Africa and America. They are massively built, with short tails and thick legs. Bears are not really carnivores. They eat almost anything, the chief exception in the polar bear, which in its natural state lives on fish and seals. However, in captivity, they seem to enjoy meat, vegetables, fruits, milk, rice and porridge.

Bears are not quite as dangerous as people imagine them to be like most animals; they will do their best to avoid human beings. They have a special sense that is eyesight to see things.

**On the basis of your reading of the above passage, answer the questions that follow.**

**A. Tick the correct answer:**

**i). Where are bears found?**



- a. America                      b. Australia                      c. Arctica                      d. None

ii). They are massively built, with short tails and thick \_\_\_\_\_.

- a. legs                      b. arm                      c. head                      d. nose

iii). They seem to enjoy meat, vegetables, fruits, milk \_\_\_\_\_.

- a. curd                      b. wheat                      c. rice and porridge                      d. barley

iv). They have a \_\_\_\_\_ sense that is eyesight to see things.

- a. unique                      b. special                      c. different                      d. none

v). Bears will do their best to avoid \_\_\_\_\_.

- a. human beings                      b. fish                      c. barley                      d. animals

**2. Read the following lines carefully.**

The merry mice stay in their holes

And hide there all the day;

But when the house is still at night,

The rogues come out and play.

They climb upon the storeroom shelf,

And taste all they please;

They drink the milk that's set for cream

And soft bread and cheese

But if they chance to hear the cat,

Their feast will soon be done;

They scamper off to hide themselves

As fast as they can run.

**A. Choose the correct answer.**

**(1x2 = 2 marks)**

**(i) In the above lines, the rhyming word for 'play' is**

(a) house      (b) clay      (c) rise      (d) nice

(ii) A feast is a grand \_\_\_\_\_

(a) meal      (b) fest      (c) day      (d) shelf

**B. Fill in the blanks.**

**(1x3 = 3 marks)**

- (i) The merry mice stay in their \_\_\_\_\_.
- (ii) They eat soft \_\_\_\_\_ and cheese.
- (iii) The rhyming word of 'house' is \_\_\_\_\_.

### SECTION- B (WRITING)

**(1x5= 5 marks)**

3. (i) Write a letter to your friend asking him/her to attend your birthday party.

**Or**

(ii) Write a letter to your friend discussing about your hobby.

### SECTION -C (GRAMMAR)

4. Tick the correct answer.

**(1x2= 2 marks)**

I. Choose the correct 'Subject' of the following sentences:

(a) \_\_\_\_\_ runs very fast.

(i) Tiger      (b) Snail      (c) Tortoise      (d) caterpillar

(b) \_\_\_\_\_ is selling books.

(i) Radha      (b) play      (c) shelf      (d) house

II. Fill in the blanks by choosing correct 'gender'.

**(1x2= 2 marks)**

(a) Kapil is a \_\_\_\_\_ (boy/girl).

(b) The \_\_\_\_\_ took the cub for a walk. (tigress/host)



5. Circle the 'nouns' in the following sentences. (1x2= 2 marks)

(a) My mother is cooking food.

(b) Humpty Dumpty sat on a wall.

6. Write the plural of these nouns. (1x2=2marks)

(a) Hero (b) class

7. Circle the predicate of the following sentences: (1x4= 4 marks)

(a) The rose is a beautiful flower.

(b) The Taj Mahal is a beautiful monument

(c) English is my favourite subject.

(d) Raj can swim fast.

8. Rearrange the words to make complete sentences: (1x2= 2 marks)

(a) lamb/little/ had/ Mary/a

(b) are/ these/ my/ toys

9. Match the groups of words given in two columns. (1x4=4 marks)

Column I

Column II

(i) brush

(a) babies

(ii) thief

(b) brushes

(iii) baby

(c) fairies

(iv) fairy

(d) thieves

10. Write the common noun for each of these names. (1x2= 2 marks)

(a) Monday \_\_\_\_\_ (b) Yamuna \_\_\_\_\_

**SECTION-D**  
**(LITERATURE)**

**11. Tick the correct answer.**

**(1x4= 4 marks)**

**(i)** The mall had many\_\_\_\_\_.

- (a) floors            (b) basement            (c) games            (d) gifts

**(ii)** Ira and her mother wanted to buy gifts for \_\_\_\_\_.

- (a)Magh Bihu            (b) Diwali            (c) EID            (d) Holi

**(iii)** Can a rock float?

- (a)Yes            (b)No

**(iv)** Floating things have

- (a)Buoyancy            (b) thing            (c) float            (d) sink

**12. Make sentences:**

**(1x 4= 4marks)**

**(a)** Shop

**(b)** festival

**(c)** float

**(d)** boat

**13. Answer the following questions:**

**(1x3= 3 marks)**

**(a)** What did Ira wanted to eat?

**(b)** Who went to the mall?

**(c)** Who did the shopping?

**14. Write two rhyming words for the words given:**

**(2X2=4 marks)**

**(a)** sink-

**(b)** mall-



संत निरंकारी पब्लिक स्कूल

अवतार एन्क्लेव

कक्षा- तीसरी

विषय हिन्दी

सामान्य निर्देश:-

इस प्रश्न पत्र में दो खंड हैं- अ और ब

खंड-अ

(अपठित गद्यांश)

प्रश्न 1) निम्नलिखित गद्यांश को ध्यानपूर्वक पढ़कर इसके आधार पर सर्वाधिक उपयुक्त उत्तर वाले विकल्प को चुनकर लिखिए :- (1x5=5)

वर्तमान काल को विज्ञापन का युग माना जाता है। समाचार - पत्रों भी विज्ञान के अतिरिक्त रेडियो और टेलीविजन के सफल साधन हैं। विज्ञापन का मूल उद्देश्य उत्पादक और उपभोक्ता में सीधा संपर्क स्थापित करना होता है। जितना अधिक विज्ञापन किसी पदार्थ का होगा, उतनी ही उसकी लोकप्रियता बढ़ेगी। इन विज्ञापनों पर धन तो अधिक व्यय होता है परंतु इसमें बिक्री बढ़ जाती है। ग्राहक जब इन आकर्षक विलापनों को देखता है, तो यह उस वस्तु - विशेष के प्रति आकृष्ट होकर, उस वस्तु को खरीदने के लिए बाध्य हो जाता है।

- 1) वर्तमान काल को किसका युग माना जाता है?
  - क) विज्ञापन
  - ख) खेल कुद
  - ग) मनोरंजन
  - घ) काल
- 2) समाचार पत्रों के अतिरिक्त विज्ञापन के और कौन-कौन से साधन हैं?
  - क) रेडियो, टेलीविजन
  - ख) बातचीत
  - ग) संगीत
  - घ) नृत्य
- 3) उत्पादक विज्ञापन पर धन व्यय क्यों करता है?
  - क) बिक्री कम करने के लिए
  - ख) मुफ्त में बेचने के लिए
  - ग) बिक्री बढ़ाने के लिए
  - घ) लोकप्रियता कम करने के लिए
- 4) विज्ञापनों का ग्राहक पर क्या प्रभाव पड़ता है।
  - क) वस्तु खरीदते नहीं हैं
  - ख) विज्ञापन देखना बंद कर देते हैं
  - ग) वस्तु खरीद लेते हैं।
  - घ) कोई प्रभाव नहीं पड़ता
- 5) गद्यांश के लिए उचित शीर्षक का चुनाव कीजिए ।



- क) रेडियो
- ख) विज्ञापन
- ग) मनोरंजन
- घ) किताब

(व्यावहारिक व्याकरण)

प्रश्न 2) निम्नलिखित प्रश्नों को ध्यानपूर्वक पढ़कर दिए गए विकल्पों में से सर्वाधिक उचित विकल्प को चुनकर लिखिए:- (1×8=8)

क) हिन्दी भाषा की लिपि \_\_\_\_\_ है।

- 1) फ़ारसी      2) रोगन      3) देवनागरी      4) गुरुमुखी

ख) पंजाबी भाषा की लिपि \_\_\_\_\_ है।

- 1) रोमन      2) फारसी      3) गुरुमुखी      4) देवनागरी

ग) 'नाना' शब्द के स्त्रीलिंग रूप का चुनाव कीजिए-

- 1) नानी      2) मामी      3) रानी      4) बड़ी बहन

घ) किसी व्यक्ति वस्तु, स्थान या भाव के नाम को \_\_\_\_\_ कहते हैं।

- 1) लिंग      2) संज्ञा      3) वर्ण      4) विशेषण

ड) मराठी \_\_\_\_\_ में बोली जाने वाली भाषा है।

- 1) महाराष्ट्र 2) पाकिस्तान 3) बंगाल 4) जर्मनी

च) अंग्रेजी भाषा की लिपि \_\_\_\_\_ है।

- 1) गुरुमुखी 2) देवनागरी 3) फारसी 4) रोमन

छ) शब्द के जिस है या रूप से पता चले कि वह स्त्री जाति है या पुरुष जाति का उसे \_\_\_\_\_ कहते हैं।

- 1) लिंग 2) जाति 3) वचन 4) रूप

ज) अनुस्वार जिस वर्ण पर लगता है, उसके बोला \_\_\_\_\_ जाता है।

- 1) पहले 2) बाद 3) बीच 4) ऊपर

**(पाठ्यपुस्तक)**

प्रश्न 3) निम्नलिखित प्रश्नों को ध्यानपूर्वक पढ़कर दिए गए विकल्पों में से सर्वाधिक उचित विकल्प को चुनकर लिखिए : (1×7=7)

क) अध्यापिका जी ने बच्चों में क्या वितरित किए?

- 1) खिलौने            2) खाना            3) फल            4) मिठाई

ख) गुड़िया ने किस रंग की चुनरी पहनी थी?

- 1) नीली            2) गुलाबी            3) लाल            4) हरी

ग) किसकी पुस्तक खोई थी?

- 1) पार्थ            2) सूरज            3) रिया            4) निधि

घ) चिंकू ने खुद को क्या कहा?

- 1) डॉक्टर            2) ड्राइवर            3) पायलट            4) अध्यापिका

ड) पापा कहाँ गए थे ?

- 1) पटना            2) दिल्ली            3) बेंगलुरु            4) दिल्ली

च) अध्यापिका जी का क्या नाम था ?

- 1) संजना            2) अर्चना            3) वन्दन            4) संजय

छ) दरवाजे के पीछे कौन छिपा हुआ था?



- 1) अमन                      2) राहुल                      3) वंदन                      4) संजना

प्रश्न 4) पठित पाठों के आधार पर खाली स्थान भरिए:- (1x4=4)

- 1) जादूगर के वेश में \_\_\_\_\_ आई।  
2) चम-चम बिजली \_\_\_\_\_ रही है।  
3) छम छम \_\_\_\_\_ बरस रही है।  
4) अध्यापिका जी ने \_\_\_\_\_ घुमाकर कोट हिलाया ।

प्रश्न 5) निम्नलिखित वाक्यों में सही वाक्य के सामने (✓) और गलत वाक्य के सामने (x) का निशान लगाइए :- (1x4=4)

- क) बच्चों का लालन-पालन माँ करती है। ( )  
ख) सब बच्चों ने चोरी की थी। ( )  
ग) अध्यापिका जी के हाथ में पेन था। ( )  
घ) हम कुदरत के अंश हैं। ( )

प्रश्न 6) निम्नलिखित प्रश्नों के उत्तर एक वाक्य में दीजिए:- (1x2=2)

- का) अमन कहाँ छिपा हुआ था?  
ख) चिंकू ने गुड़िया को कूड़ेदान में फेंकने की बात क्यों कही?

**खंड 'ब' (वर्णनात्मक प्रश्न)**

**(पाठ्यपुस्तक)**

प्रश्न 7) निम्नलिखित प्रश्नों के उत्तर दीजिए :-

(2×2=4)

क) अन्नू रेलगाड़ी के बारे में हमेशा क्या कहता था?

ख) आप बारिश होने पर क्या करते हैं?

**(रचनात्मक लेखन)**

प्रश्न 8) अनुच्छेद लिखिए :-

(4)

मेरा घर और परिवार

प्रश्न 9) अवकाश के लिए प्रधानाचार्य जी को पत्र लिखिए।

(3)

प्रश्न 10) पापा के साथ खरीदारी करते हुए पापा और राधा के बीच हुई बातचीत को संवाद के रूप में लिखिए

(3)

प्रश्न 11) 'चंचल' अलमारी की बिक्री बढ़ने हेतु एक सुंदर व आकर्षक विज्ञापन बनाइए।

(3)

प्रश्न 12) नीचे दिए गए चित्र को देखकर पाँच वाक्य लिखिए :-

(3)










**4. Case study:****[1x3=3 Marks]**

Rohan and Rohit loaded the ship Blue Whale. Due to storm in the sea, some of the supplies fall over board. They have to count everything again. The list is given below, fill the new number.



Items	Original number	Number Lost	New Number
Flour Bags	252	10	
Biscuits	568	100	
Water Bottle	845	124	

**SECTION-B****[2x4=8 Marks]****5. Add the following:**

	T H	H	T	O
	3	1	2	7
+	2	4	7	1

**6. Find the difference:**

	T H	H	T	O
	6	8	7	5
-	3	2	5	6



**7. Build the greatest and smallest number using the digits 9,5,8,7.**

GREATEST \_\_\_\_\_

SMALLEST \_\_\_\_\_

**8. Identify as odd and even number:**

a) 175 \_\_\_\_\_

b) 5040 \_\_\_\_\_

c) 9295 \_\_\_\_\_

d) 7514 \_\_\_\_\_

**SECTION -C**

**[3X4=12 Marks]**

**9. Write in expanded form:**

**[1x3=3 MARKS]**

a) 1832= \_\_\_\_\_

b) 3025= \_\_\_\_\_

c) 6521= \_\_\_\_\_

**10.** In an orchard, there are 1025 apple trees, 1100 mango trees and 9806 orange trees.  
How many trees in all are there in the orchard?

**11.** In a school there are 2975 students. If 1682 students are girls, how many boys are there?

**12.** A school X has 1986 students and another school Y has 1896 students . Which school has more students?

**SANT NIRANKARI PUBLIC SCHOOL**

**AVTAR ENCLAVE, PASCHIM VIHAR**

**SAMPLE PAPER (2024-2025)**

**CLASS-III**

**SUBJECT-EVS**

**TIME: 2 HOURS**

**M.M:50**

**General Instructions:**

- The paper is divided into two sections-A and B.
- Both sections are compulsory.
- Write all the answers on the answer sheet.
- Do not write on the question paper.
- Handwriting should be neat.
- Avoid unnecessary rubbing.

**SECTION-A (OBJECTIVE)**

**Q1. Tick (✓) the correct answer.**

**(1x10=10)**

i. Humans need plants and animals for

- a) food                      b) oxygen                      c) shelter                      d) all of these

ii. Children of your uncle can be your

- a) mother                      b) aunts                      c) siblings                      d) cousins

iii. Number of bones present in our body are

- a) 106                      b) 206                      c) 306                      d) 600

iv. The heart is part of the \_\_\_\_\_ system.

- a) excretory                      b) circulatory                      c) nervous                      d) respiratory

v. A \_\_\_\_\_ is a simple and rough drawing of something.

- a) globe                      b) sketch                      c) map                      d) plan

vi. A small green area or patch of grass represents a \_\_\_\_\_

- a) park                      b) playground                      c) both of these                      d) none of these

vii. Atlas is the

- a) book of maps      b) plan                      c) sketch                      d) none of these

viii. The organ in which the food is churned and mixed with juices

- a) small intestine      b) large intestine      c) mouth                      d) stomach

ix. Which of the following does not happen in families?

- a) Love and care      b) Sharing work      c) Living separately      d) Support and understanding

x. Plants need humans and animals for

- a) Carbon dioxide      b) Oxygen                      c) Water                      d) Food

**Q2. Identify the picture and tick(✓) the correct answer.**

**(1×2=2)**

i.



- a) Symbol of hospital  
b) Symbol of tree

ii.



- a) Nuclear family  
b) Joint family

**Q3. Fill in the blanks -**

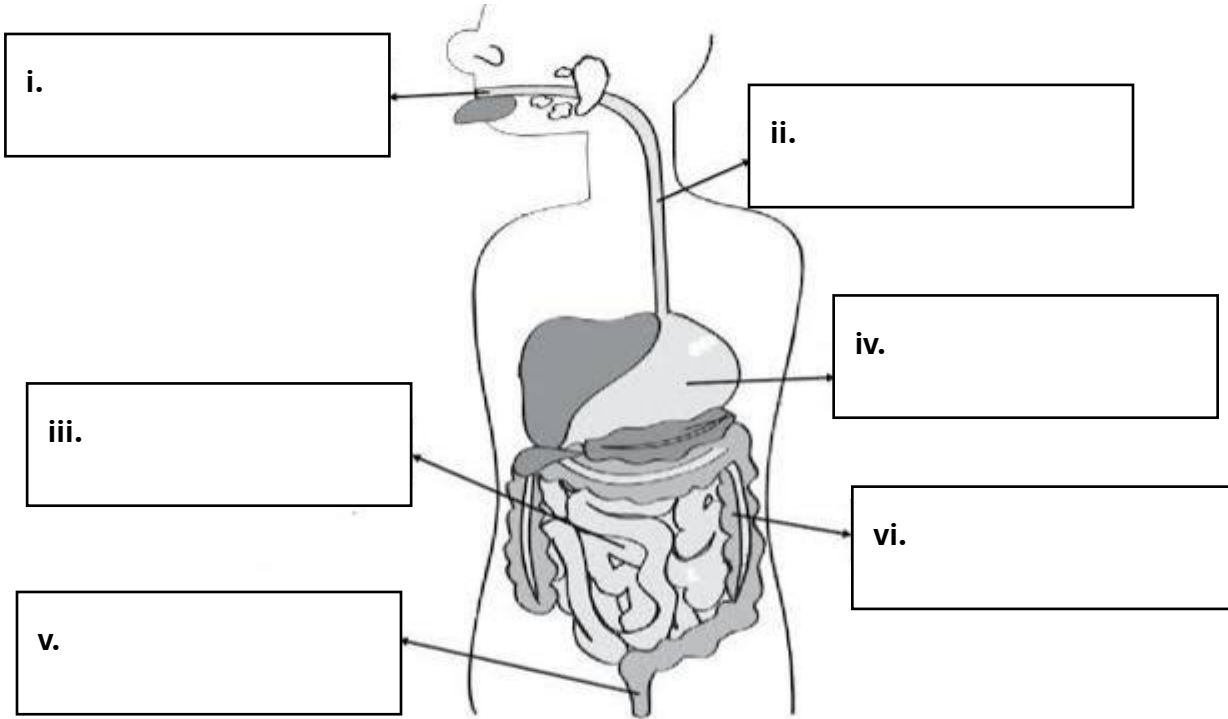
**(1×3=3)**



- i. The lungs are found in the \_\_\_\_\_ system.
- ii. A \_\_\_\_\_ is a simple and rough drawing of something.
- iii. \_\_\_\_\_ refers to how you sit, stand and hold your body.

**Q4. Name the parts labelled i,ii,iii,iv,v and vi.**

**(1×6=6)**



**Q5. Read the passage and answer the following questions.**

**(1×3=3)**

Maps are used to find directions or places on the Earth. They are drawings of a part of the Earth or the entire Earth on a flat surface. People who make maps are called cartographers. A book of maps is called an atlas.

- i. What is the use of maps?
- ii. What is a map?

iii. Who are cartographers?

**Q6. Write 'T' for True and 'F' for False.**

**(1×3=3)**

i. Symbol of mountain is a triangle with jagged lines at the top.

ii. We should cut forests for making new houses and farms.

iii. Even today, many people use cycles for commuting.

**SECTION-B (SUBJECTIVE)**

**Q7. Define the following –**

**(1×3=3)**

i. Saliva

ii. Biodiversity

iii. Globe

**Q8. Answer the following questions.**

**(2×4=8)**

i. Who is a sibling?

ii. What is the role of the muscular system?

iii. What is a sketch?

iv. What do you mean by balance of nature?

**Q9. Answer the following questions.**

**(3×4=12)**

i. How can we help to conserve wildlife and birds?

ii. Write a short note on the nervous system.

iii. What are rituals? Give two examples.

iv. Discuss any three uses of maps.